

Opgave 1 – Wereld: Een demografische vergelijking tussen Nederland en Japan

Bestudeer de bronnen 1 en 2 uit het bronnenboekje die bij deze opgave horen.

Gebruik bron 1.

De bevolkingsontwikkeling van Japan en die van Nederland vertonen grote overeenkomsten. Beide landen bevinden zich in dezelfde fase van het demografische transitie-model.

- 3p 1 Waardoor wordt deze fase gekenmerkt?
Onderbouw je antwoord voor **beide** landen met demografische cijfers uit de Grote Bosatlas statistiek.

Gebruik bron 1.

De vergrijzing lijkt in de periode 2014-2024 in Japan een groter probleem te worden dan in Nederland.

- 1p 2 Geef daarvoor een aanwijzing uit de bron.

Gebruik bron 2.

- 2p 3 Beschrijf het spreidingspatroon van de bevolking in Japan.
Wat is de fysischgeografische oorzaak van dit spreidingspatroon?

Gebruik bron 2.

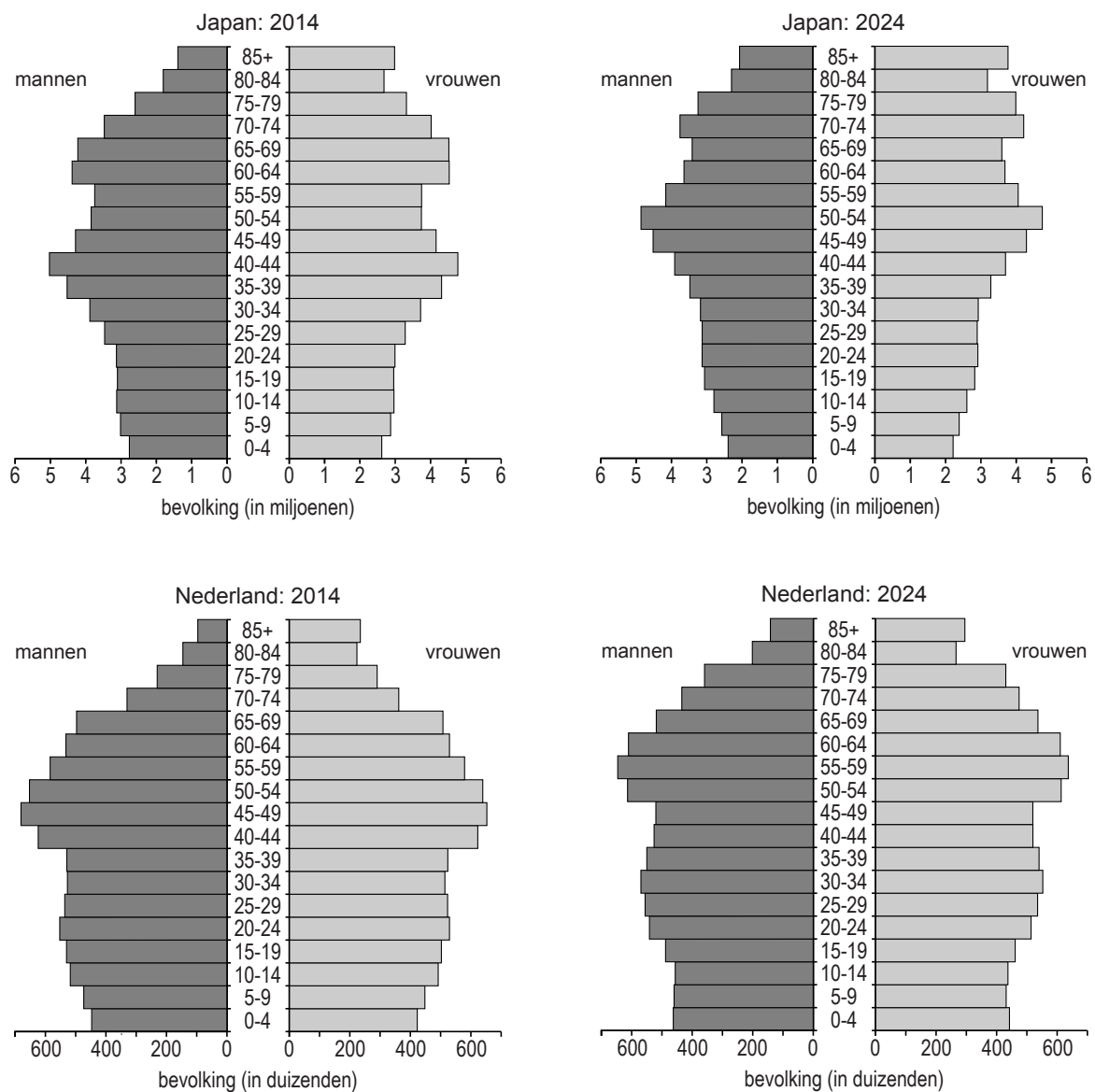
In de atlas staat een kaart van de bevolkingsdichtheid van Nederland. Deze kaart is moeilijk te vergelijken met die van Japan in bron 2.

- 2p 4 Geef twee redenen waarom de informatie op beide kaarten **niet** goed te vergelijken is.

Opgave 1 – Wereld: Een demografische vergelijking tussen Nederland en Japan

bron 1

Bevolkingsdiagrammen van Japan en Nederland in 2014 en 2024

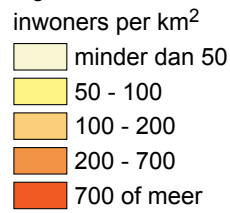


vrij naar: www.census.gov/ipc

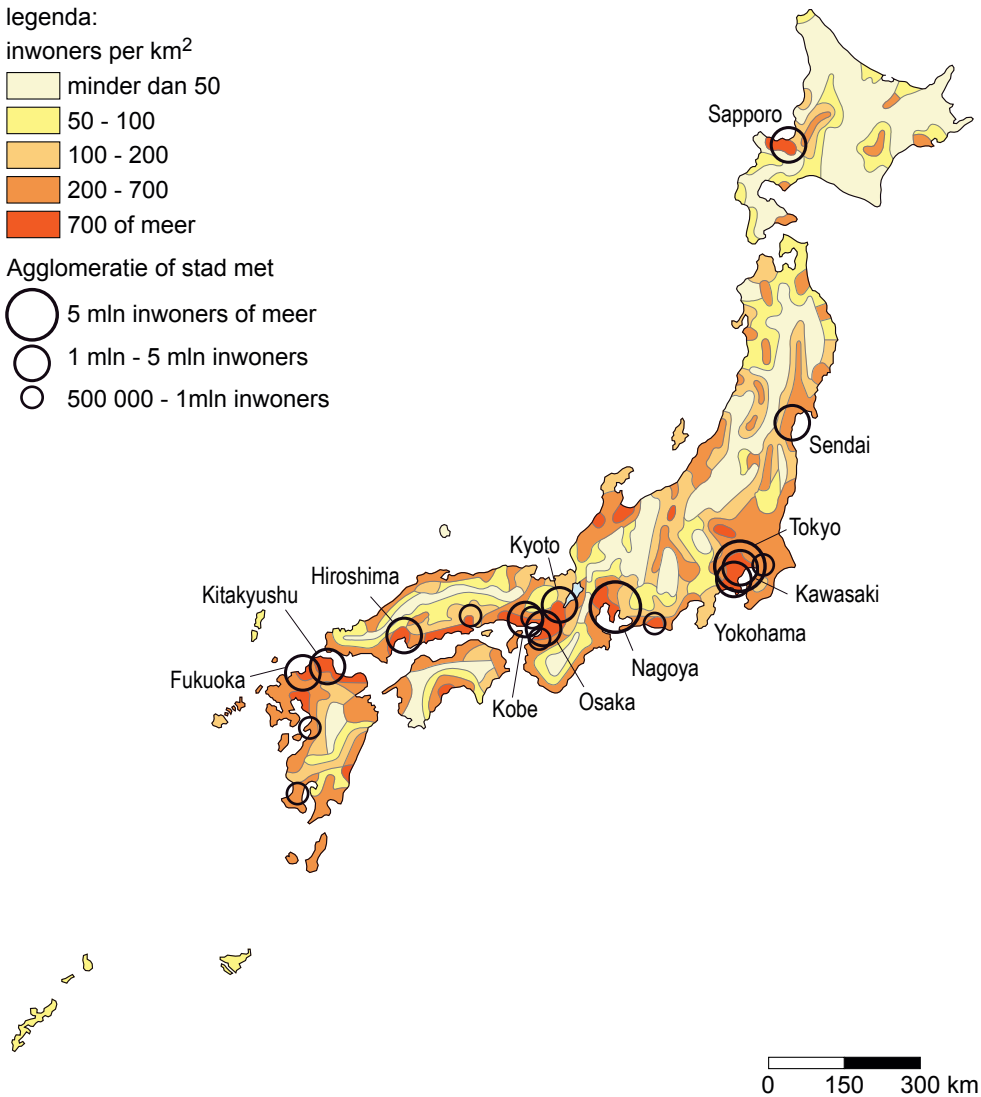
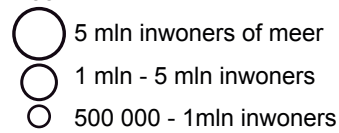
bron 2

Japan, bevolkingdichtheid (2006)

legenda:



Agglomeratie of stad met



bron: De Grote Bosatlas, 53e druk, 2007

Bronvermelding

Een opsomming van de in dit examen gebruikte bronnen, zoals teksten en afbeeldingen, is te vinden in het bij dit examen behorende correctievoorschrift, dat na afloop van het examen wordt gepubliceerd.